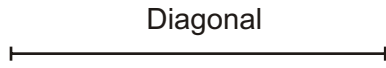
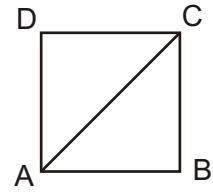
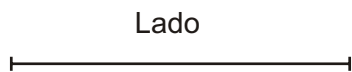
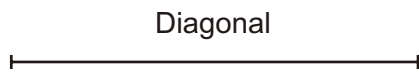
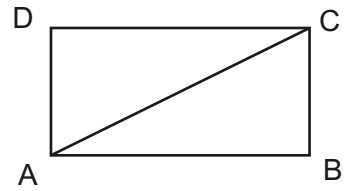


PROBLEMAS DE CUADRILÁTEROS

1. Dibujar un cuadrado conocida su diagonal AC.

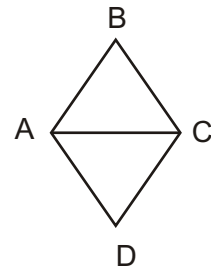
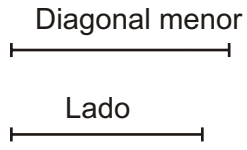


2. Dibujar un rectángulo conocida una diagonal AC y un lado AB.

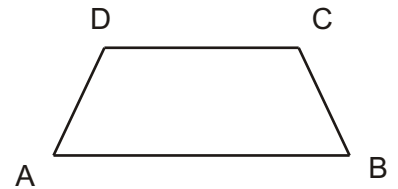
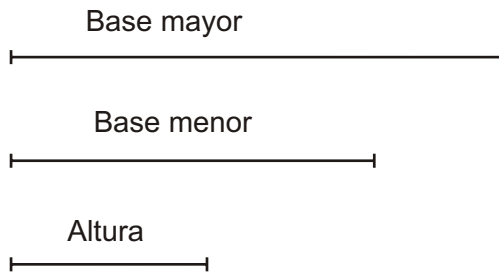


PROBLEMAS DE CUADRILÁTEROS

3. Dibujar un rombo conocida la diagonal menor AC y un lado AB.



4. Dibujar un trapecio isósceles conociendo sus bases AB y CD y su altura.



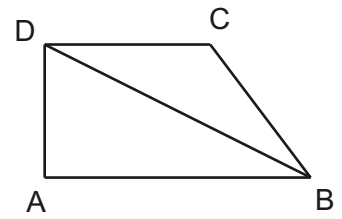
PROBLEMAS DE CUADRILÁTEROS

5. Dibujar un trapezio rectángulo conocida su base mayor AB, su diagonal mayor BD, y su base menor CD.

Base mayor

Diagonal mayor

Base menor



6. Dibujar un trapezio escaleno conocidas sus bases AB y CD y sus diagonales AC y BD.

Base AB

Base CD

Diagonal AC

Diagonal BD

