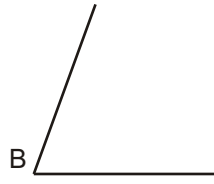
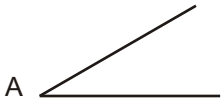
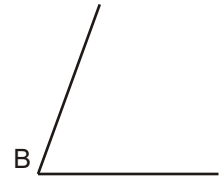
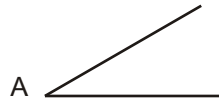
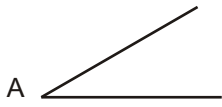


Sumar los ángulos A y B.



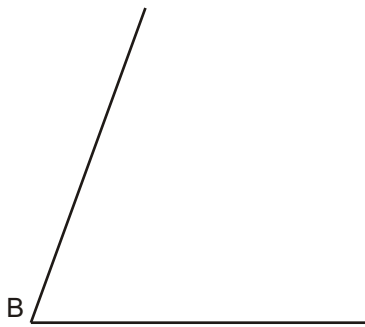
Hallar el ángulo B-A.



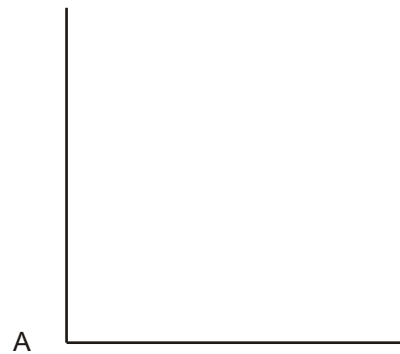


Multiplicar por cuatro el ángulo A.

Dividir el ángulo B en dos partes iguales (bisectriz).



Dividir el ángulo recto A en tres partes iguales.



Título:

Fecha:

Calificación

Nombre y apellidos:

Grupo: