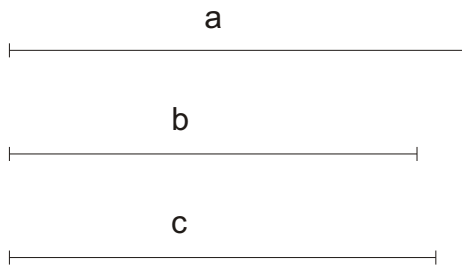


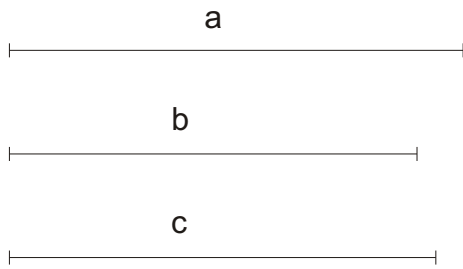
TRIÁNGULOS

Construir el triángulo de lados a , b y c . A continuación dibujar sus alturas y hallar su ortocentro.



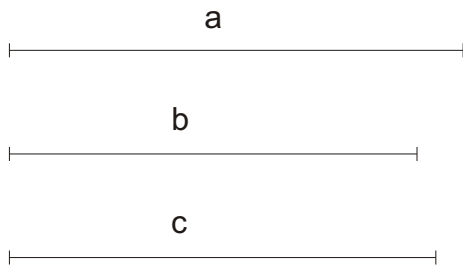
TRIÁNGULOS

Construir el triángulo de lados a , b y c . A continuación dibujar sus mediatrices y hallar su circuncentro, y dibujar finalmente su circunferencia circunscrita.



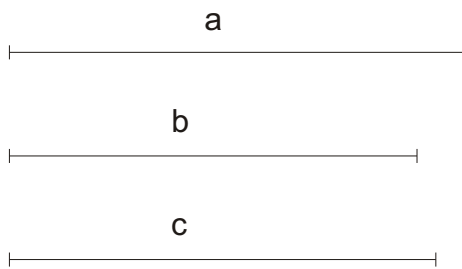
TRIÁNGULOS

Construir el triángulo de lados a , b y c . A continuación dibujar sus bisectrices y hallar su incentro, y dibujar finalmente su circunferencia inscrita.



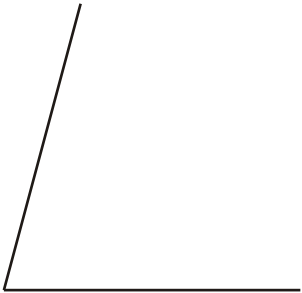
TRIÁNGULOS

Construir el triángulo de lados a , b y c . A continuación dibujar sus medianas y hallar su baricentro.

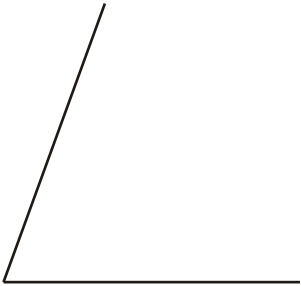


TRIÁNGULOS ISÓSCELES

Dibujar el triángulo isósceles conocidos el lado desigual y el ángulo igual.

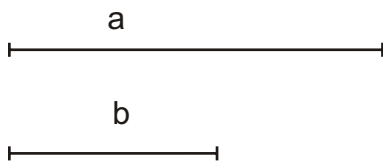


Dibujar el triángulo isósceles conocidos el lado igual y el ángulo igual.



TRIÁNGULOS RECTÁNGULOS

Dibujar el triángulo rectángulo del que se conocen los dos catetos, a y b .



Dibujar el triángulo rectángulo del que se conocen la hipotenusa c y uno de los catetos, b .

